



Своя игра

Тропинка в мир познания

филиал МБДОУ- детского сада «Детство»

детского сада № 40/228

Мальченко Галина Анатольевна, воспитатель



Тройника в мир свойств и качеств предметов»

3

5

10

Тройника в окружающий мир

3

5

10

Тройника в мир математики

3

5

10



Тропинка в мир свойств и качеств 3

За окном летят снежинки,
В белом платье зимний сад,
Снег искрится на тропинках-
Так бывает в.....



ТРОИЦКА В МИР СВОИХ И КАЧЕСТВ Э

ОТВЕТ:





ТРОИНКА В МИР СВОЙСТВ И КАЧЕСТВ 5

Перетяни в ячейку справа карандаш:

НЕ синий и НЕ жёлтый.

НЕ самый длинный и НЕ самый короткий.



Тренировка в мире свойств и качества 5

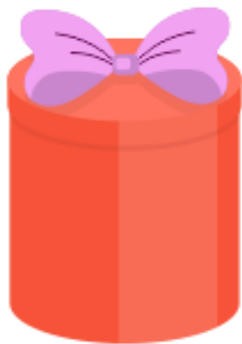
ОТВЕТ:



Тренинка в мир свойств и качеств предметов» 10

Укажи коробку с подарком для Алисы, если:

- коробка красного цвета;
- дно круглое;
- на крышке есть бантик;
- коробка высокая.



Тренинка в мире свойств и качеств предметов» 10

ОТВЕТ:

Укажи коробку с подарком для Алисы, если:

- коробка красного цвета;
- дно круглое;
- на крышке есть бантик;
- коробка высокая.



Троинка в окружающий мир Э

- Первый космонавт?



ТРОИКА В ОКРУЖАЮЩЕМ МИРЕ

ОТВЕТ:






Тройника в окружающий мир 5

Света:


- не носит платья,
- не заплетает косички,
- не катается на роликах.

Найди Свету.



Тройника в окружающий мир 5

ОТВЕТ:




Света:

- не носит платья,
- не заплетает косички,
- не катается на роликах.



Тростинка в окружающий мир 10

Подбери к этому плоду его семена.



ТРОИЧКА В ОКРУЖАЮЩЕЙ ЖИЗНИ 10




ОТВЕТ:



Тройника в мире математики 3

Определи фигуру по подсказкам:

1. Она не синяя.
2. Это не квадрат.
3. Это круг или треугольник.




ТРОИНКА В МИР МАТЕМАТИКИ 3

ОТВЕТ:

Определи фигуру по подсказкам:

1. Она не синяя.
2. Это не квадрат.
3. Это круг или треугольник.



Тройника в мире математики 5

Какое число спрятал котёнок?

$$5 + \text{котёнок} = 7$$

4

3

2

ТРОИЧКА В МИР МАТЕМАТИКИ 5

ОТВЕТ:

2



Тройника в мире математики 10

Какой цифры нет на рисунке?



7

4

2

ТРОИЦКА В МИР МАТЕМАТИКИ 10

ОТВЕТ:.

4

